

# 1章 正の数・負の数 <数直線を使って数を求める>

<これらの知識を使った問題が問題ノートのp.4 4, p.5 3にあります>

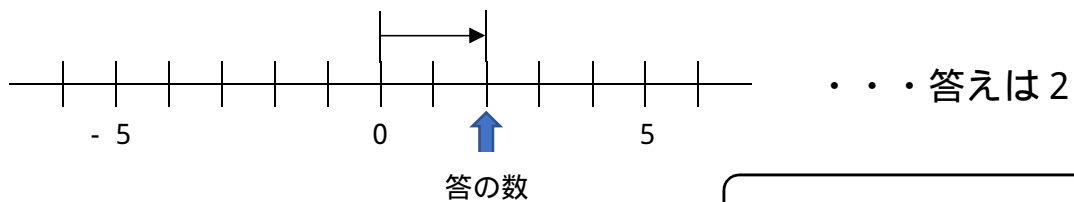
1年 組 番 氏名 \_\_\_\_\_

例 数直線を使って、次の数を求めなさい。

- (1) 0より2大きい数      (2) 0より3小さい数  
 (3) 0より-4大きい数      (4) 0より-4小さい数

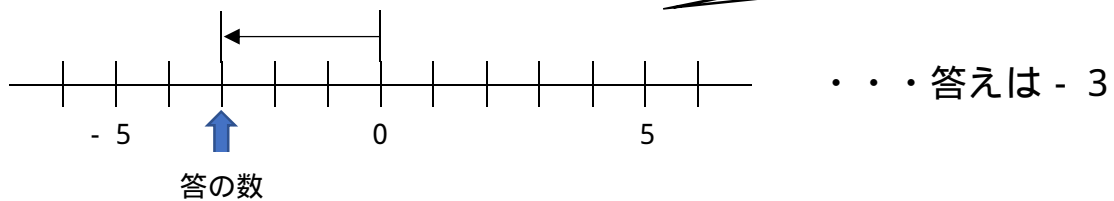
<考え方> 数直線は、右にある数の方が大きい。 (右に行くほど大きい)

(1) 0より2大きい数・・・2右へ進んだところにある数

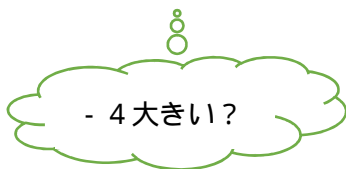


大きい・・・右    小さい・・・左

(2) 0より3小さい数・・・3左へ進んだところにある数



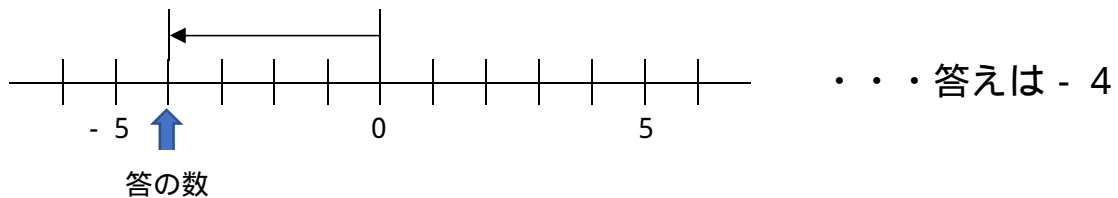
(3) 0より-4大きい数



負の数だけ大きい小さいはわかりにくい  
 言葉を逆にする

-4大きい  
 4小さい

0より4小さい数を求めればよい



(4) 0より-4小さい数・・・0より4大きい数

